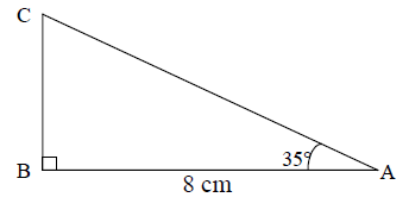
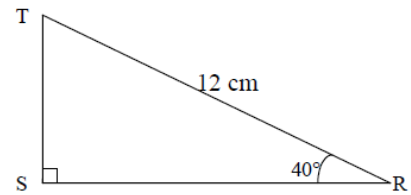


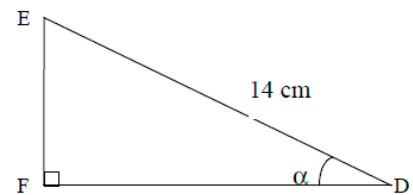
Exercice 1 : Calculer AC au dixième près.



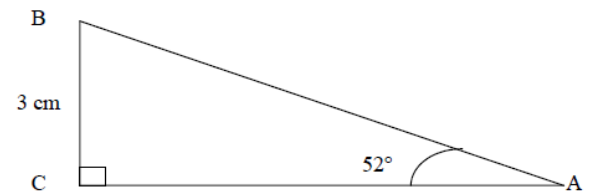
Exercice 2 : Calculer RS au centième près.



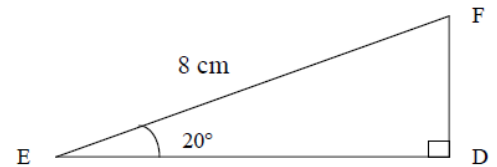
Exercice 3 : Calculer $\cos \alpha$ puis la valeur de α au dixième.



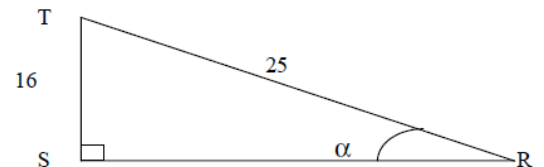
Exercice 4 : Calculer AB au dixième près.



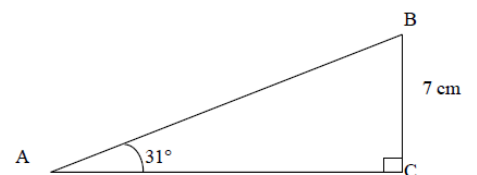
Exercice 5 : Calculer FD au millième près.



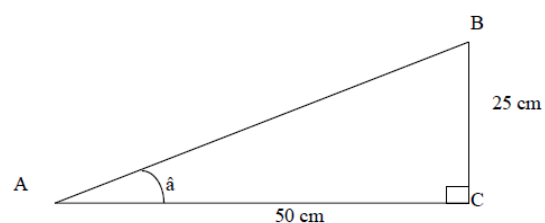
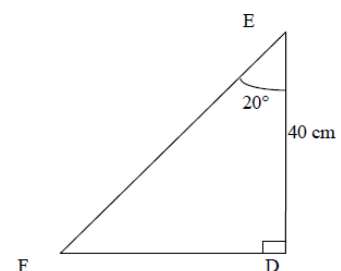
Exercice 6 : Calculer $\sin \alpha$ puis la valeur de α au dixième.



Exercice 7 : Calculer AC au dixième près.



Exercice 8 : Calculer FD au centième près.



Exercice 9 : Calculer $\tan \hat{a}$ puis la mesure de l'angle \hat{a} au degrés près