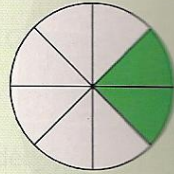


Pour chaque question, une seule réponse est exacte. Laquelle ?

1 Relier aires et fractions

La partie colorée représente ...

- a. $\frac{1}{4}$ du disque b. $\frac{2}{6}$ du disque c. $\frac{1}{2}$ du disque



2 Relier longueurs et fractions

On a coloré les deux tiers du segment sur la figure ...

- a.  b.  c. 

3 Lire une fraction

La fraction $\frac{9}{8}$ se lit ...

- a. neuf huit b. huit neuvièmes c. neuf huitièmes

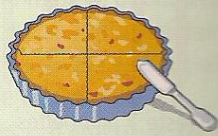
4 Relier durées et fractions

17 minutes représentent ...

- a. $\frac{17}{60}$ d'une heure b. $\frac{60}{17}$ d'une heure c. $\frac{60}{17}$ d'une seconde

5 Comprendre un énoncé

Pour ses plateaux-repas, une compagnie aérienne a commandé 8 400 quarts de quiches. Cela fait ...

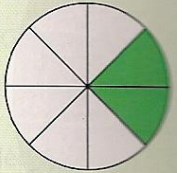


Pour chaque question, une seule réponse est exacte. Laquelle ?

1 Relier aires et fractions

La partie colorée représente ...

- a. $\frac{1}{4}$ du disque b. $\frac{2}{6}$ du disque c. $\frac{1}{2}$ du disque



2 Relier longueurs et fractions

On a coloré les deux tiers du segment sur la figure ...

- a.  b.  c. 

3 Lire une fraction

La fraction $\frac{9}{8}$ se lit ...

- a. neuf huit b. huit neuvièmes c. neuf huitièmes

4 Relier durées et fractions

17 minutes représentent ...

- a. $\frac{17}{60}$ d'une heure b. $\frac{60}{17}$ d'une heure c. $\frac{60}{17}$ d'une seconde

5 Comprendre un énoncé

Pour ses plateaux-repas, une compagnie aérienne a commandé 8 400 quarts de quiches. Cela fait ...

