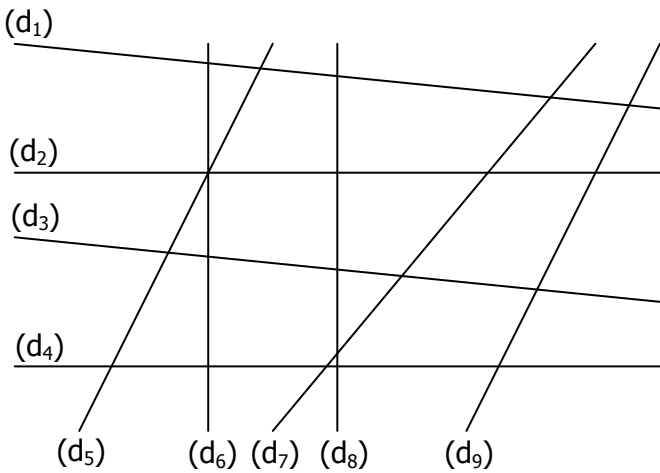


EXERCICE 1

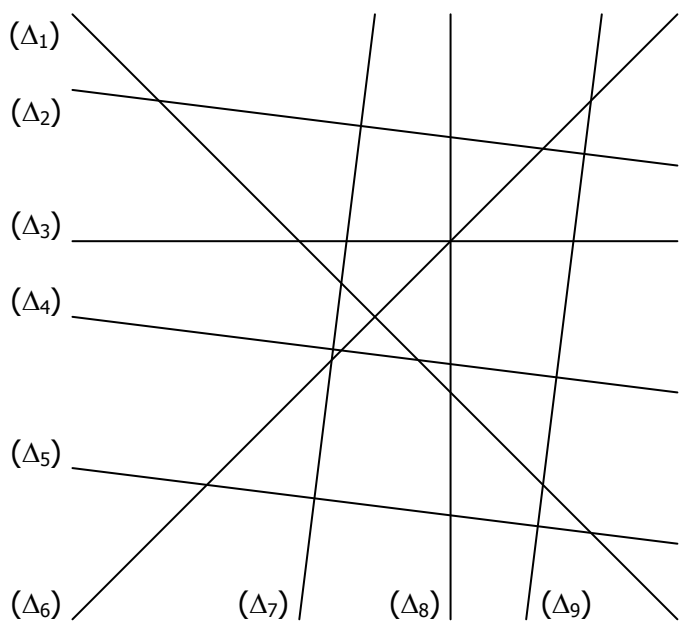
Les droites suivantes sont-elles **sécantes** ou **parallèles** ?



- a. (d₁) et (d₃) sont : parallèles sécantes
- b. (d₁) et (d₅) sont : parallèles sécantes
- c. (d₁) et (d₉) sont : parallèles sécantes
- d. (d₂) et (d₄) sont : parallèles sécantes
- e. (d₂) et (d₆) sont : parallèles sécantes
- f. (d₃) et (d₄) sont : parallèles sécantes
- g. (d₆) et (d₇) sont : parallèles sécantes
- h. (d₆) et (d₉) sont : parallèles sécantes
- i. (d₇) et (d₉) sont : parallèles sécantes
- j. (d₅) et (d₉) sont : parallèles sécantes

EXERCICE 2

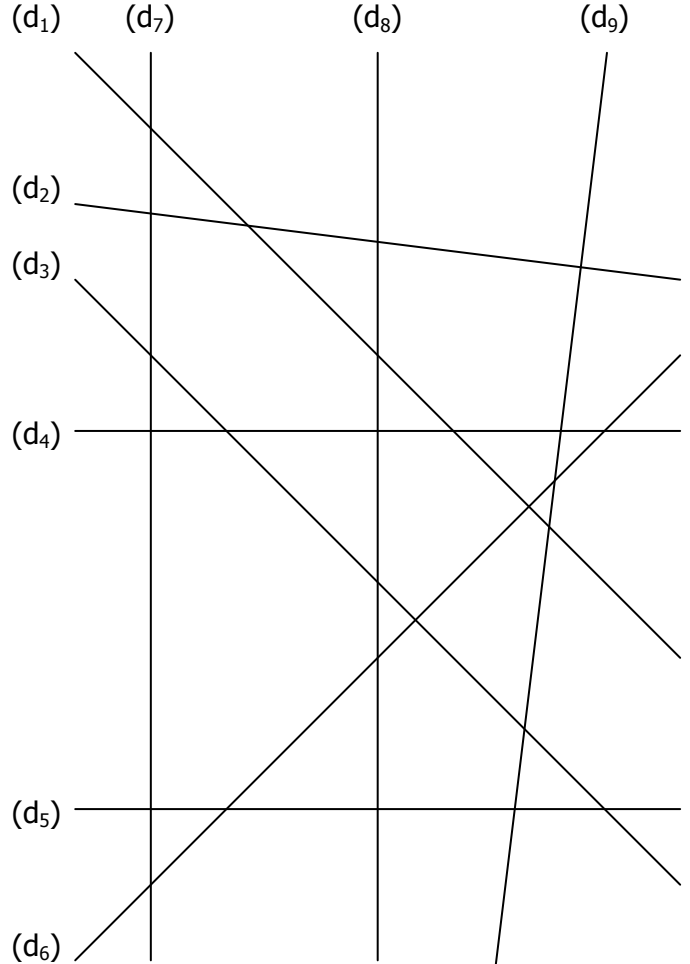
Les droites suivantes sont-elles **perpendiculaires** ? (Répondre par OUI ou NON)



- a. (Δ₁) et (Δ₂)
- b. (Δ₃) et (Δ₇)
- c. (Δ₁) et (Δ₄)
- d. (Δ₃) et (Δ₈)
- e. (Δ₁) et (Δ₆)
- f. (Δ₄) et (Δ₉)
- g. (Δ₂) et (Δ₅)
- h. (Δ₅) et (Δ₉)
- i. (Δ₂) et (Δ₇)
- j. (Δ₈) et (Δ₂)

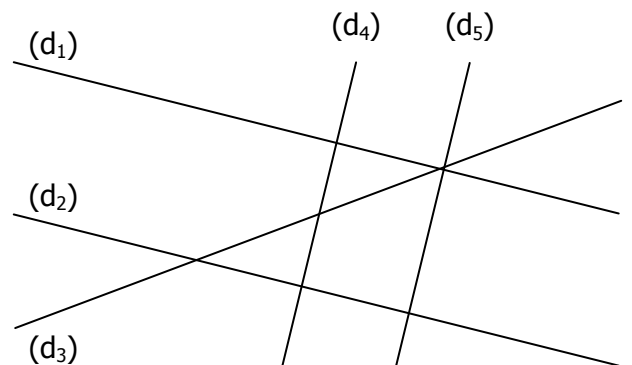
EXERCICE 3

Coder tous les **angles droits** sur la figure suivante :



EXERCICE 4

Classer les droites (deux par deux) dans le tableau :



DROITES SECANTES		DROITES PARALLELES
	PERPENDICULAIRES	